

Gyakorlófeladatok a Szerves kémiai szintézismódszerek c. kurzushoz 1.

Megoldások

1. Mi keletkezik az alábbi átalakulásokban?

Luciferin



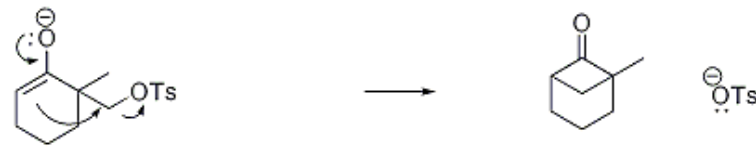

Pyridoxal




Pummerer's ketone



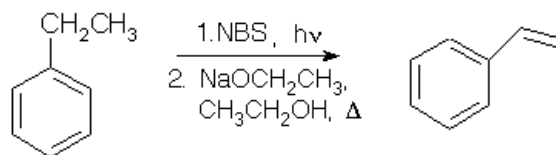
Dictamnine



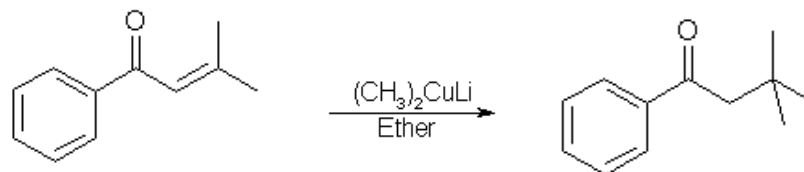
2. Mi keletkezik az alábbi átalakulásokban?



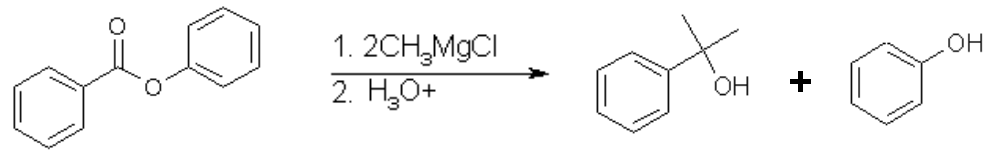
3. Mi keletkezik az alábbi átalakulásokban?



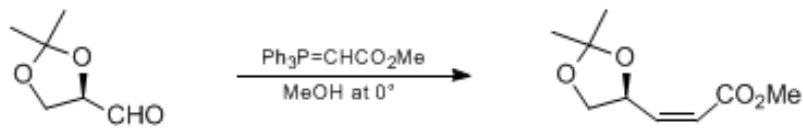
4. Mi keletkezik az alábbi reakcióban?



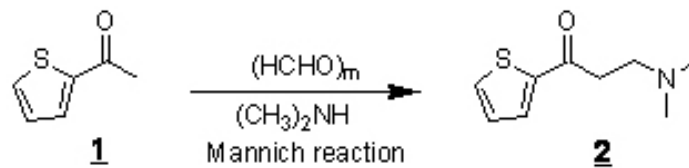
5. Milyen reagens szükséges az alábbi reakcióhoz?



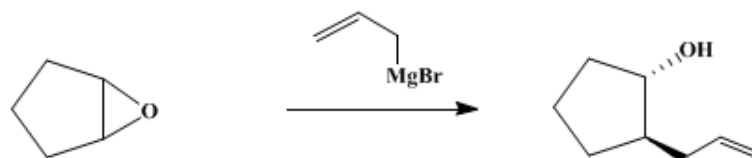
6. Mi keletkezik az alábbi átalakulásban?



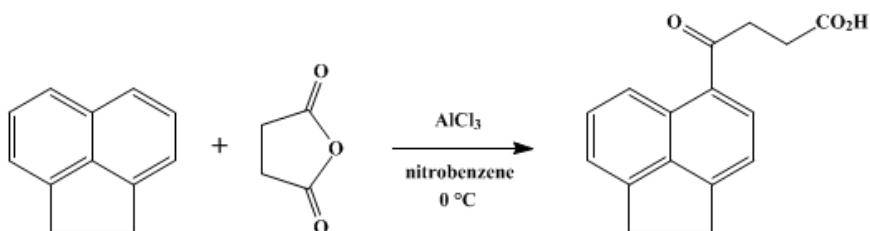
7. Milyen reagens szükséges az alábbi reakcióhoz?



8. Mi keletkezik az alábbi reakcióban?



9. Milyen kiindulási anyagok szükségesek az alábbi átalakuláshoz?



10. Mi keletkezik az alábbi reakciókban?

